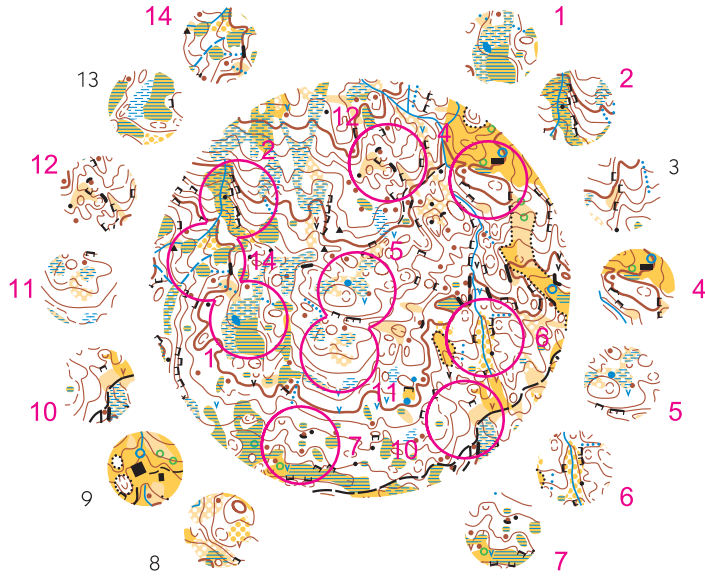


Wieviele der kleinen Stücke sind aus dem Grossen?
Combien de petits cercles proviennent du grand?
Quanti elementi parziali compongono il cerchio?

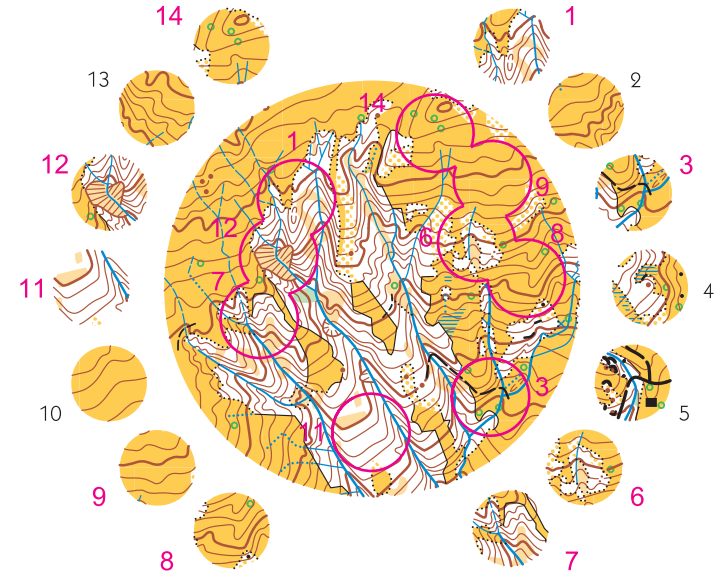
10



Serie 1-1

Wieviele der kleinen Stücke sind aus dem Grossen?
Combien de petits cercles proviennent du grand?
Quanti elementi parziali compongono il cerchio?

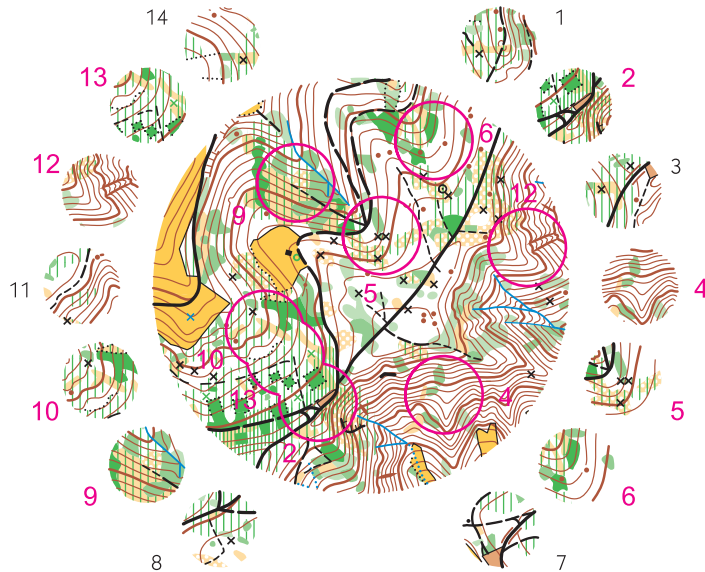
9



Serie 2-1

Wieviele der kleinen Stücke sind aus dem Grossen?
Combien de petits cercles proviennent du grand?
Quanti elementi parziali compongono il cerchio?

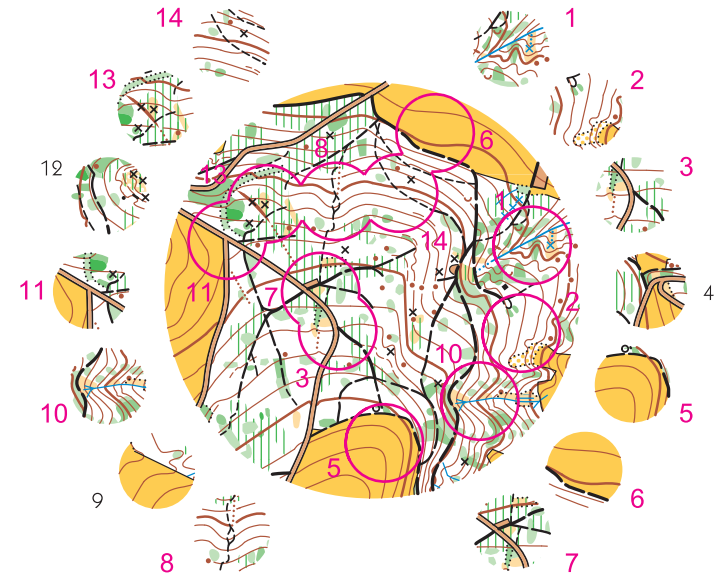
8



Serie 3-1

Wieviele der kleinen Stücke sind aus dem Grossen?
Combien de petits cercles proviennent du grand?
Quanti elementi parziali compongono il cerchio?

11



Serie 4-1